

Examen VWO

**2015**

tijdvak 2  
donderdag 18 juni  
13.30 - 16.30 uur

**wiskunde B**

Bij dit examen hoort een uitwerkbijlage.

Achter het correctievoorschrift is een aanvulling op het correctievoorschrift opgenomen.

Dit examen bestaat uit 17 vragen.

Voor dit examen zijn maximaal 77 punten te behalen.

Voor elk vraagnummer staat hoeveel punten met een goed antwoord behaald kunnen worden.

Als bij een vraag een verklaring, uitleg of berekening vereist is, worden aan het antwoord meestal geen punten toegekend als deze verklaring, uitleg of berekening ontbreekt.

Geef niet meer antwoorden (redenen, voorbeelden e.d.) dan er worden gevraagd. Als er bijvoorbeeld twee redenen worden gevraagd en je geeft meer dan twee redenen, dan worden alleen de eerste twee in de beoordeling meegeteld.

## Vlakke meetkunde

Verwijzingen naar definities en stellingen die bij een bewijs mogen worden gebruikt zonder nadere toelichting.

### Hoeken, lijnen en afstanden:

*gestrekte hoek, rechte hoek, overstaande hoeken, F-hoeken, Z-hoeken, afstand punt tot lijn, driehoeksongelijkheid.*

### Meetkundige plaatsen:

*middelloodlijn, bissectrice, bissectricepaar, middenparallel, cirkel, parabool.*

### Driehoeken:

*hoekensom driehoek, buitenhoek driehoek, congruentie: HZH, ZHH, ZHZ, ZZZ, ZZR; gelijkvormigheid: hh, zhz, zzz, zZR; middelloodlijnen driehoek, bissectrices driehoek, hoogtelijn driehoek, hoogtelijnen driehoek, zwaartelijn driehoek, zwaartelijnen driehoek, gelijkbenige driehoek, gelijkzijdige driehoek, rechthoekige driehoek, Pythagoras, gelijkbenige rechthoekige driehoek, halve gelijkzijdige driehoek.*

### Vierhoeken:

*hoekensom vierhoek, parallellogram, ruit, rechthoek, vierkant.*

### Cirkel, koorden, bogen, hoeken, raaklijn, vierhoeken:

*koorde, boog en koorde, loodlijn op koorde, middellijn, Thales, middelpuntshoek, omtrekshoek, constante hoek, raaklijn, hoek tussen koorde en raaklijn, koordenvierhoek.*

## Goniometrie

$$\sin(t + u) = \sin t \cos u + \cos t \sin u$$

$$\sin(t - u) = \sin t \cos u - \cos t \sin u$$

$$\cos(t + u) = \cos t \cos u - \sin t \sin u$$

$$\cos(t - u) = \cos t \cos u + \sin t \sin u$$

$$\sin t + \sin u = 2 \sin \frac{t+u}{2} \cos \frac{t-u}{2}$$

$$\sin t - \sin u = 2 \sin \frac{t-u}{2} \cos \frac{t+u}{2}$$

$$\cos t + \cos u = 2 \cos \frac{t+u}{2} \cos \frac{t-u}{2}$$

$$\cos t - \cos u = -2 \sin \frac{t+u}{2} \sin \frac{t-u}{2}$$

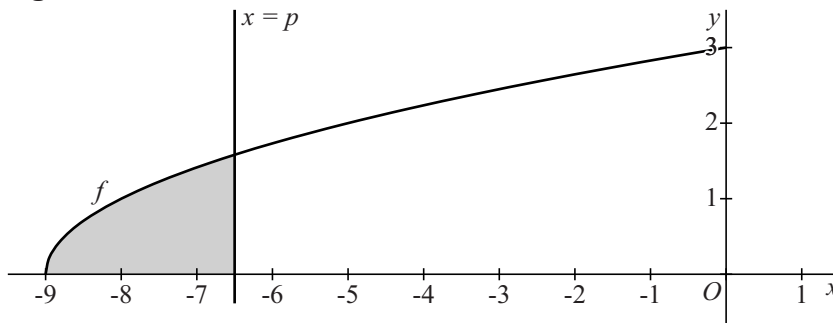
## Het achtste deel

Op het domein  $[-9, 0]$  is de functie  $f$  gegeven door  $f(x) = \sqrt{x+9}$ .

In de figuur is de grafiek van  $f$  getekend en een lijn met vergelijking  $x = p$  met  $-9 < p \leq 0$ .

Het gebied dat wordt ingesloten door de grafiek van  $f$ , de  $x$ -as en deze lijn is met grijs aangegeven.

**figuur**



De oppervlakte van het grijze gebied noemen we  $A$ . De waarde van  $A$  hangt af van de waarde van  $p$ . Er geldt:

$$A(p) = \frac{2}{3}(p+9)^{\frac{3}{2}}$$

4p 1 Bewijs dat  $A(p) = \frac{2}{3}(p+9)^{\frac{3}{2}}$ .

Er is een waarde van  $p$  waarvoor  $A(p)$  het achtste deel is van de oppervlakte van het gebied dat wordt ingesloten door de grafiek van  $f$ , de  $x$ -as en de  $y$ -as.

5p 2 Bereken exact deze waarde van  $p$ .

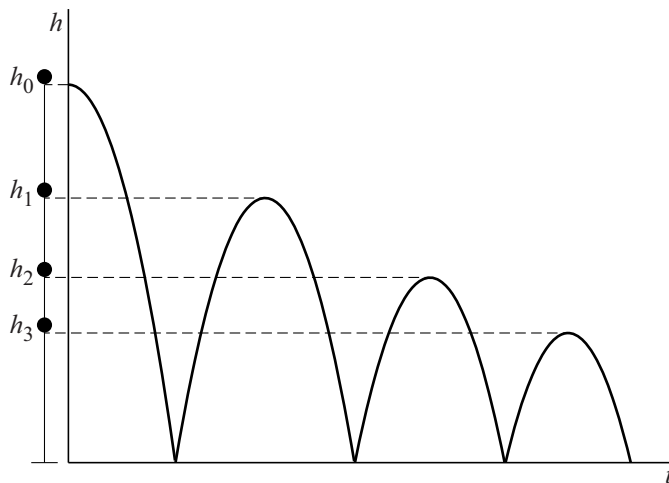
## Stuiterende bal

Een bal wordt vanaf een bepaalde hoogte boven een vloer losgelaten en begint vervolgens te stuiteren. In deze opgave bekijken we een wiskundig model van deze situatie.

Op het moment van loslaten bevindt de onderkant van de bal zich  $h_0$  meter boven de vloer. De maximale hoogte van de onderkant van de bal tussen twee keer stuiteren noemen we de **stuihoogte**. De stuihoogte na de eerste keer stuiteren noemen we  $h_1$ , die na de tweede keer stuiteren  $h_2$ , enzovoort.

Aan de linkerkant van figuur 1 is de bal getekend op verschillende stuihoogtes. Rechts daarvan is de hoogte  $h$  van de stuiterende bal (in meters) uitgezet tegen de tijd  $t$  (in seconden).

figuur 1



In deze opgave gaan we ervan uit dat de verhouding tussen twee opeenvolgende stuihoogtes constant is, dus  $h_1 : h_0$  is gelijk aan  $h_2 : h_1$ , enzovoorts. Deze verhouding noemen we  $a$ . Voor de stuihoogte na  $n$  keer stuiteren geldt dan:

$$h_n = h_0 \cdot a^n$$

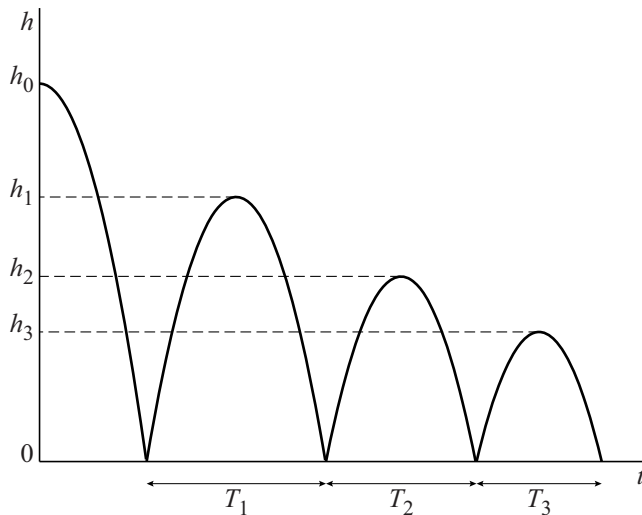
De waarde van  $a$  hangt af van het soort bal.

- 3p 3 Bereken de waarde van  $a$  voor een bal waarvan na 7 keer stuiteren de stuihoogte 5 keer zo klein is als de hoogte waarop de bal is losgelaten. Geef het antwoord in twee decimalen nauwkeurig.

De hoogte van de onderkant van de bal tussen twee opeenvolgende keren stuiten is een functie van de tijd. De grafiek van deze functie is een bergparabool.

De tijd in seconden tussen de  $n$ -de en de  $(n+1)$ -ste keer stuiten noemen we de **stuittijd**  $T_n$ . In figuur 2 zijn drie stuitijden aangegeven.

**figuur 2**



De stuittijd  $T_n$  kan worden uitgedrukt in de stuihoogte  $h_n$ .

Er geldt:

$$T_n = 2 \cdot \sqrt{\frac{h_n}{4,9}}$$

Een bal wordt losgelaten vanaf hoogte  $h_0$ . De stuittijd  $T_1$  is 1,11 seconden en de stuittijd  $T_4$  is 0,68 seconden.

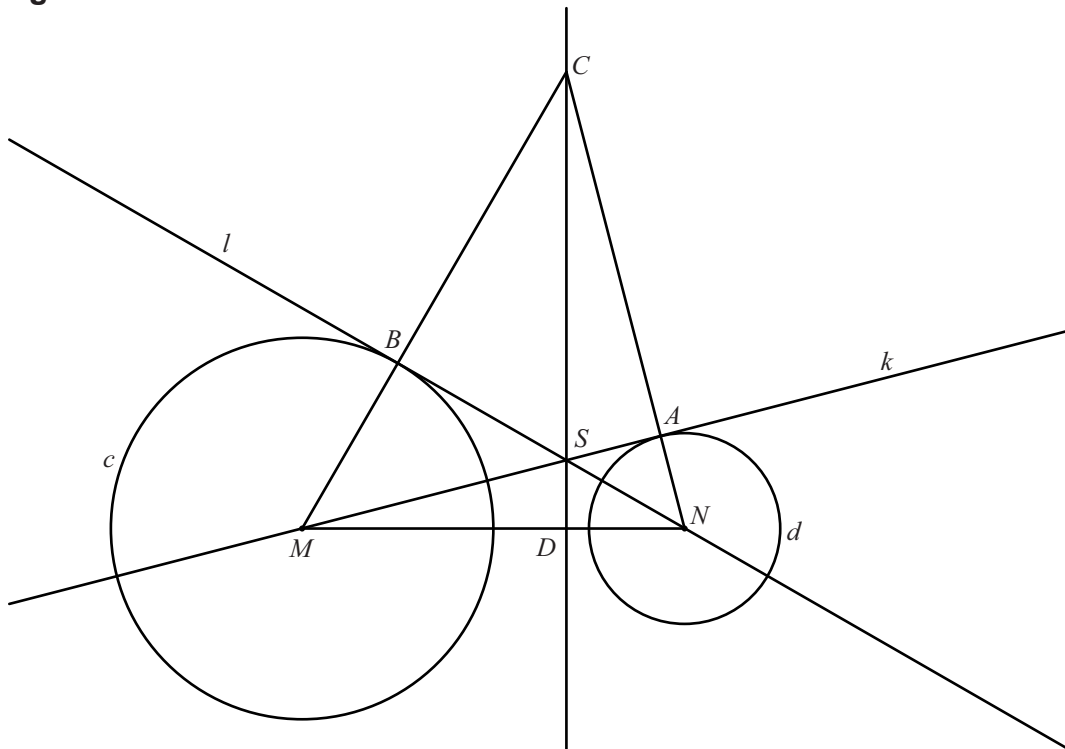
5p **4** Bereken  $h_0$ . Geef je antwoord in decimeters nauwkeurig.

## Snijdende raaklijnen

Gegeven zijn cirkel  $c$  met middelpunt  $M$  en cirkel  $d$  met middelpunt  $N$ . Lijn  $k$  gaat door  $M$  en raakt  $d$  in punt  $A$ . Lijn  $l$  gaat door  $N$  en raakt  $c$  in punt  $B$ . De punten  $A$  en  $B$  liggen aan dezelfde kant van  $MN$ . Punt  $S$  is het snijpunt van  $k$  en  $l$ . De lijnen  $MB$  en  $NA$  snijden elkaar in punt  $C$ . De lijn door  $C$  en  $S$  snijdt lijnstuk  $MN$  in punt  $D$ .

Zie de figuur. Deze figuur staat ook op de uitwerkbijlage.

**figuur**



Er geldt:  $\angle ACS = \angle NMS$ .

6p 5 Bewijs dit.

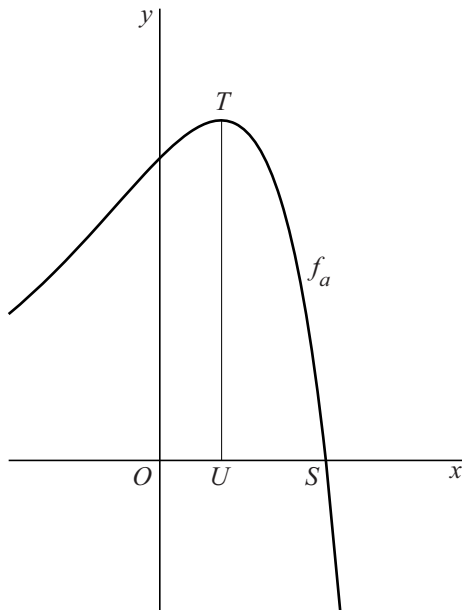
## Onveranderlijke lengte

Voor  $a > 1$  is de functie  $f_a$  gegeven door:

$$f_a(x) = a \cdot e^x - e^{2x}$$

De grafiek van  $f_a$  snijdt de  $x$ -as in het punt  $S(\ln a, 0)$ . De grafiek van  $f_a$  heeft één top: punt  $T$ . De loodrechte projectie van  $T$  op de  $x$ -as is punt  $U$ .  $U$  ligt links van  $S$  op de  $x$ -as. Zie de figuur.

**figuur**



De  $x$ -coördinaten van de punten  $U$  en  $S$  zijn afhankelijk van de waarde van  $a$ .

7p **6** Bewijs dat de lengte van lijnstuk  $US$  onafhankelijk is van  $a$ .

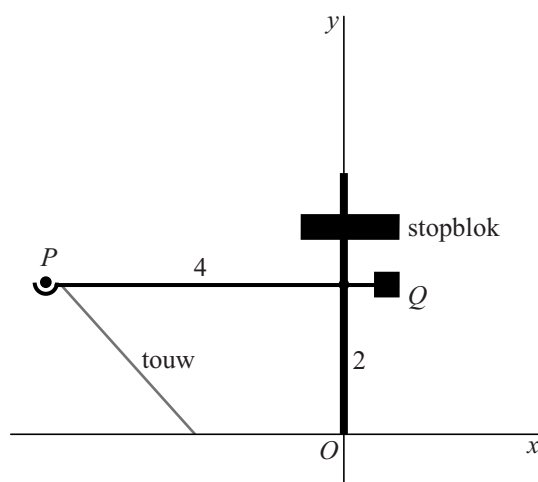
## Over de muur

In vroeger tijden probeerde men met een katapult kogels over vestingmuren te slingeren. In deze opgave bekijken we een katapult met een draaibare hefboom. Het linker deel van de hefboom is 4 meter lang. Op het einde daarvan ligt een kogel met middelpunt  $P$ . Aan het einde van het rechter deel van de hefboom zit een contragewicht  $Q$ . In het begin wordt de hefboom horizontaal gehouden door een touw tussen de hefboom en de grond. De hoogte van de hefboom is dan 2 meter.

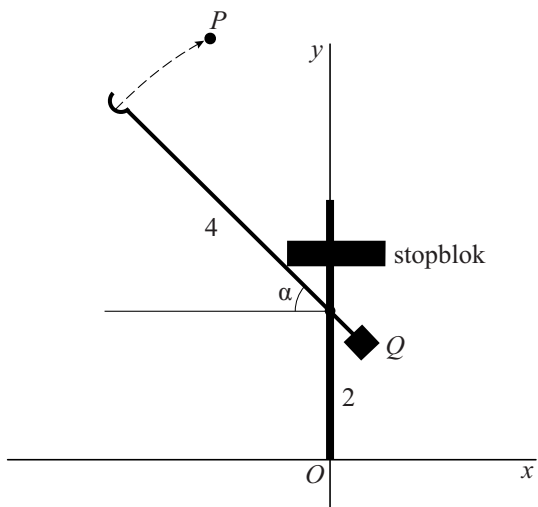
In figuur 1 is deze beginstand getekend in een assenstelsel met oorsprong  $O$  op de grond. Punt  $P$  heeft dan coördinaten  $(-4, 2)$ .

Nadat het touw wordt doorgesneden, gaat de hefboom draaien in de richting van de wijzers van de klok, tot deze draaiing door een verstelbaar stopblok wordt gestopt en de kogel wegvliegt. De draaihoek in de eindstand wordt de **stophoek**  $\alpha$  genoemd, met  $0 < \alpha < \frac{1}{2}\pi$  radialen. In figuur 2 is de eindstand getekend.

**figuur 1**  
beginstand



**figuur 2**  
eindstand



- 2p 7 Druk de coördinaten van  $P$  uit in de stophoek  $\alpha$  op het moment dat de eindstand wordt bereikt.



Als de hefboom bij stophoek  $\alpha$  tot stilstand komt, verlaat de kogel de hefboom en vliegt vervolgens door de lucht. De baan die  $P$  dan beschrijft is bij benadering gegeven door de bewegingsvergelijkingen:

$$\begin{cases} x(t) = 20t \cdot \sin \alpha \cdot \sqrt{\sin \alpha} - 4 \cos \alpha \\ y(t) = -5t^2 + 2 + 20t \cdot \cos \alpha \cdot \sqrt{\sin \alpha} + 4 \sin \alpha \end{cases}$$

Hierin is  $t$  de tijd in seconden vanaf het moment dat de kogel de hefboom verlaat. Verder zijn  $x(t)$  en  $y(t)$  in meters en is  $\alpha$  in radialen.

Voor  $y_{\text{top}}$ , de  $y$ -coördinaat van het hoogste punt van de baan van  $P$ , geldt:

$$y_{\text{top}} = 2 + 24 \sin \alpha - 20 \sin^3 \alpha$$

- 5p **8** Bewijs dat de formule voor  $y_{\text{top}}$  volgt uit de bewegingsvergelijkingen.

Uit de formule voor  $y_{\text{top}}$  kan de waarde van de stophoek  $\alpha$  worden berekend waarvoor de kogel de grootst mogelijke hoogte bereikt. In dit optimale geval zijn de bewegingsvergelijkingen voor  $P$  bij benadering gelijk aan:

$$\begin{cases} x(t) = 10,1t - 3,1 \\ y(t) = -5t^2 + 12,3t + 4,5 \end{cases}$$

- 4p **9** Toon met een berekening aan dat in dit geval inderdaad bij benadering geldt  $y(t) = -5t^2 + 12,3t + 4,5$ .

De stophoek is zo ingesteld dat de kogel zo hoog mogelijk komt. Als de katapult, gemeten vanaf  $O$ , 24 meter van een 6 meter hoge vestingmuur staat, komt de kogel niet over de muur.

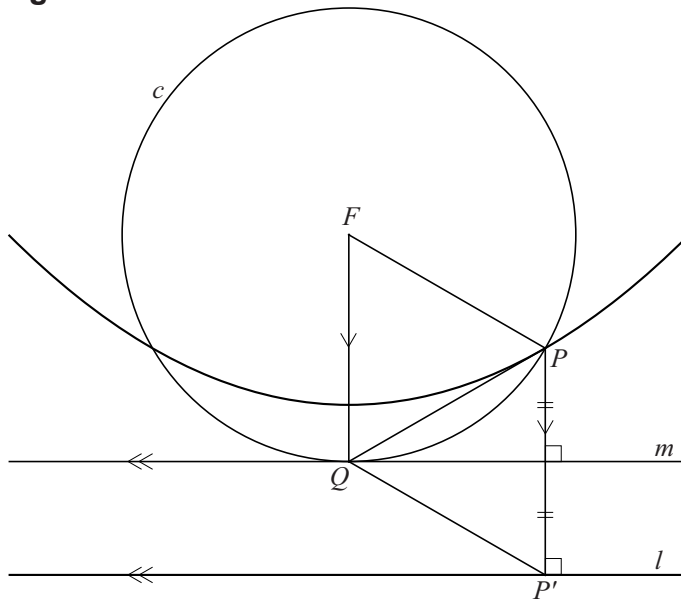
- 5p **10** Bereken de afstand waarover de katapult minstens in de richting van de muur moet worden verschoven zodat de kogel wel over de muur komt. Geef het antwoord in gehele meters.

## Parabool en cirkel

Een parabool heeft brandpunt  $F$  en richtlijn  $l$ . Op de parabool ligt een punt  $P$ . Punt  $P'$  is de loodrechte projectie van  $P$  op  $l$ . Cirkel  $c$  heeft middelpunt  $F$  en gaat door  $P$ . De lijn door  $F$  evenwijdig aan  $PP'$  snijdt  $c$  in punt  $Q$ . Lijn  $m$  gaat door  $Q$  en is evenwijdig met  $l$ .

Punt  $P$  ligt zo op de parabool dat  $m$  de middelloodlijn van lijnstuk  $PP'$  is. Zie de figuur. Deze figuur staat ook op de uitwerkbijlage.

**figuur**



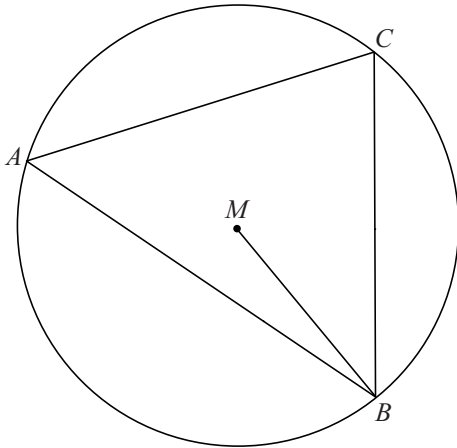
6p 11 Bewijs dat  $PQ = FP$ .

## Koordenvierhoek maken

Gegeven is een scherphoekige driehoek  $ABC$ .  $M$  is het middelpunt van de omschreven cirkel van driehoek  $ABC$ .

Zie figuur 1. Deze figuur staat ook op de uitwerkbijlage.

**figuur 1**

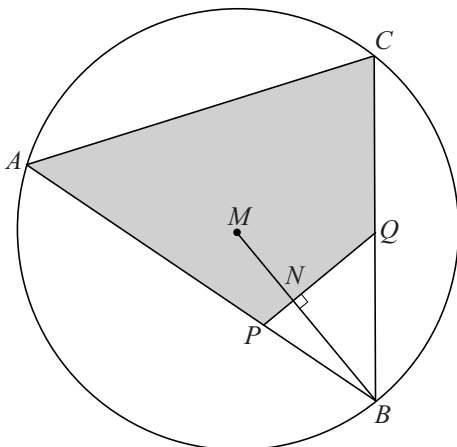


Er geldt:  $\angle CBM = 90^\circ - \angle CAB$ .

4p 12 Bewijs dit.

In de driehoek van figuur 1 maken we nu als volgt een vierhoek. Kies een punt  $N$  op lijnstuk  $MB$ . De loodlijn in  $N$  op  $MB$  snijdt de lijnstukken  $AB$  en  $BC$  in respectievelijk punt  $P$  en punt  $Q$ . Zie figuur 2. Deze figuur staat ook op de uitwerkbijlage.

**figuur 2**



4p 13 Bewijs dat  $APQC$  een koordenvierhoek is.

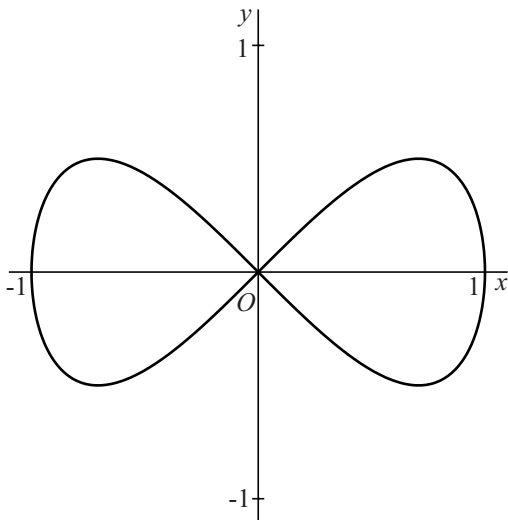
## Lemniscaat

Punt  $P$  beweegt volgens de bewegingsvergelijkingen:

$$\begin{cases} x(t) = \cos t \\ y(t) = \sin t \cdot \cos t \end{cases} \quad \text{met } 0 \leq t < 2\pi$$

In figuur 1 is de baan van  $P$  getekend. Deze baan wordt **lemniscaat** genoemd.

**figuur 1**



Tijdens de beweging passeert punt  $P$  vier keer de lijn met vergelijking  $y = \frac{1}{4}$ .

4p **14** Bereken exact voor welke waarden van  $t$  dit het geval is.

De snelheid van  $P$  op tijdstip  $t$  is gelijk aan  $\sqrt{(x'(t))^2 + (y'(t))^2}$ .

$P$  gaat twee keer door de oorsprong  $O$ , beide keren met even grote snelheid.

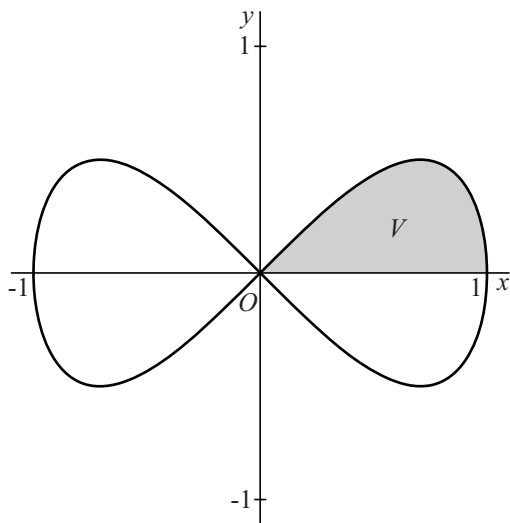
6p **15** Bereken exact deze snelheid.

Een vergelijking van de baan van  $P$  is:  $y^2 = x^2(1 - x^2)$ .

3p **16** Bewijs dit.

De lemniscaat snijdt de positieve  $x$ -as bij  $x = 1$ .  
 $V$  is het vlakdeel boven de  $x$ -as dat wordt ingesloten door de lemniscaat en de positieve  $x$ -as. Zie figuur 2.

**figuur 2**



- 4p 17 Bereken exact de inhoud van het omwentelingslichaam dat ontstaat als  $V$  om de  $x$ -as wordt gewenteld.